

# СОУ „Васил Левски” – гр. Кула, обл. Видин



## Състезание по математика и логическо мислене Есен 2011

Тема за 2 клас

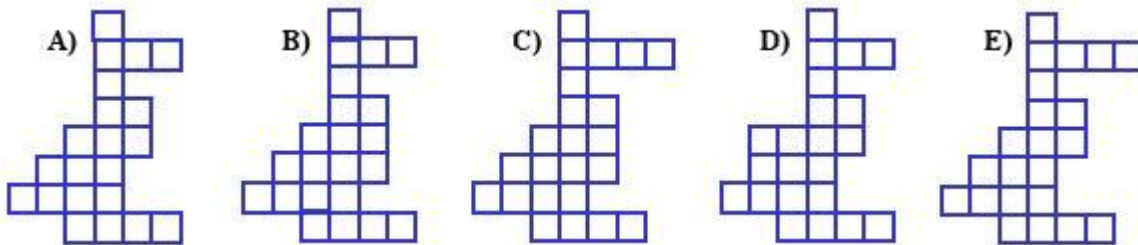
1. Вчера Калин имаше рожден ден. Утре е четвъртък. Кога беше рожденият ден на Калин?

А) вторник В) петък С) четвъртък D) събота E) понеделник.

2. Момчил рисува по три фигурки една след друга в един и същи ред. Коя е фигурката на шесто място?



3. На коя от фигурите малките квадратчета са най-много?



4. Ангел, Борис, Васко, Гого и Даниел влезли в книжарницата. Ангел купил 1 тетрадка, Борис купил 2 тетрадки, Васко купил 3 тетрадки, Гого купил 4 тетрадки, Даниел купил 5 тетрадки. Колко тетрадки са купили всичките заедно?

А) 5 В) 8 С) 15 D) 16 E) 10.

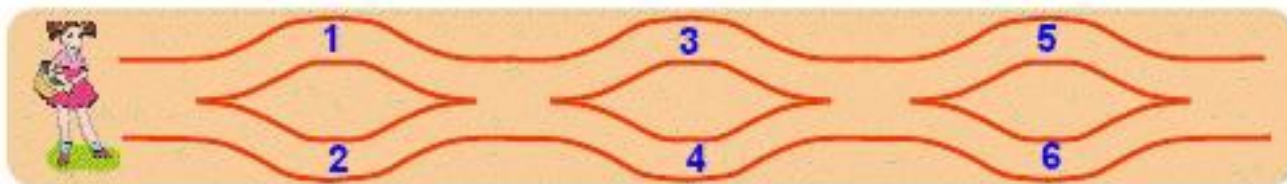
5. Билет за възрастен за цирк струва 4 лв., а детският билет е с 1 лв. поевтин. Баща завел двете си деца на цирк. Колко е заплатил за билетите?

А) 5 В) 6 С) 10 D) 12 E) 7.

6. На една улица вляво всички сгради са номерирани с числата 1, 3, 5, .....17. Всички сгради вдясно на същата улица са номерирани с числата 2, 4, 6, ....14. Колко сгради общо има на тази улица?

- A) 14    B) 15    C) 16    D) 17    E) 18.

7. Червената шапчица се разхожда от ляво на дясно по очертаните пътеки и събира числа в кошницата си. Кои от посочените числа са попаднали в нейната кошница?




- A) 1, 2 и 5    B) 2, 3 и 5    C) 1, 5 и 6    D) 1, 2 и 4    E) 2, 3 и 4.

8. Дадена е следната последователност от фигури. Коя от посочените фигури се среща най-често?



- A)  $\triangle$     B)  $\blacktriangle$     C)  $\blacksquare$     D)  $\blacksquare$  и  $\triangle$     E) всички се срещат по равно.

9. Индианският вожд Голямата мечка носи три пера на главата си, томахавка в лявата си ръка, стрели в дясната и е обут с мокасини. Синът му Белият зъб носи две пера на главата си, стрели в дясната си ръка, има две ленти на гърдите си, ходи бос и няма томахавка. На коя от картинките са изобразени Голямата мечка и синът му Белият зъб?



A)

B)

C)

D)

E)

10. Тони е по-висока от Мони и по-ниска от Цони, а Рони е по-висока от Нони и е по-ниска от Тони. Коя от петте приятелки е най-висока?

- A) Тони    B) Цони    C) Рони    D) Нони    E) Мони.

**Благодарим Ви за участието** и напомняме, че отборът предава само една бланка с отговори и пояснения, не ползва услугите на хора извън отбора, пази чистота и тишина. Първенец ще бъде отборът, получил най-много точки, а при равен брой точки, ще спечели първият по време. Девизът на турнира е:

**Без удари под кръста,  
с ум и разум, не през пръсти,  
без да бързаш работи,  
най-доброто покажи!**

